















grande masse

petite masse



Comment fonctionne une balance à plateau?



Comment fonctionne une balance à plateau?



Comment fonctionne une balance à plateau?



Comment fonctionne une balance à plateau?

J'ai une balance à plateau. Il y a 5 cubes sur un côté et 12 cubes sur l'autre côté.
Combien de cubes as-tu besoin d'ajouter pour que les plateaux se balance?

J'ai une balance à plateau. Il y a 5 cubes sur un côté et 12 cubes sur l'autre côté.
Combien de cubes as-tu besoin d'ajouter pour que les plateaux se balance?

J'ai une balance à plateau. Il y a 5 cubes sur un côté et 12 cubes sur l'autre côté.
Combien de cubes as-tu besoin d'ajouter pour que les plateaux se balance?



Quels objets peux-tu trouver qui a la même masse qu'un efface?

1	
2	
3	
4	